


«Приключения Миши и Маши в стране Математики»


Сказка

Автор: студентка 4 курса группы «А»
ОЗО Сосидка И.А.





В одном небольшом городке жили-были Миша и Маша. Они ходили в детский сад «Солнышко» в старшую группу «Непоседы», были неразлучными друзьями, всегда и всё делали вместе.






А еще ребята очень любили математику, разные игры на развитие логического мышления, памяти. Они считали лучше всех, участвовали в различных математических викторинах и КВН.





Как-то раз Мише приснился в детском саду удивительный сон: они с Машей попали в страну Математики. Там было очень красиво.








Взявшись за руки, Миша и Маша пошли по улицам страны Математики. Первая улица, на которую они попали, оказалась улица Геометрических фигур.



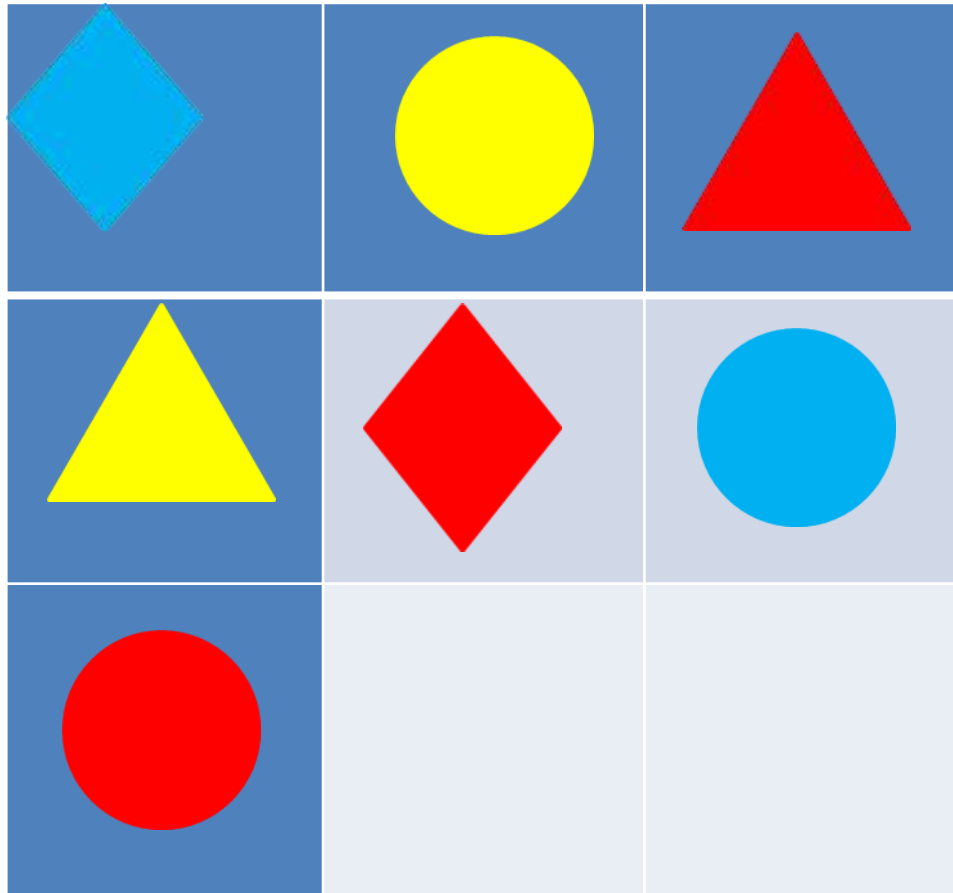


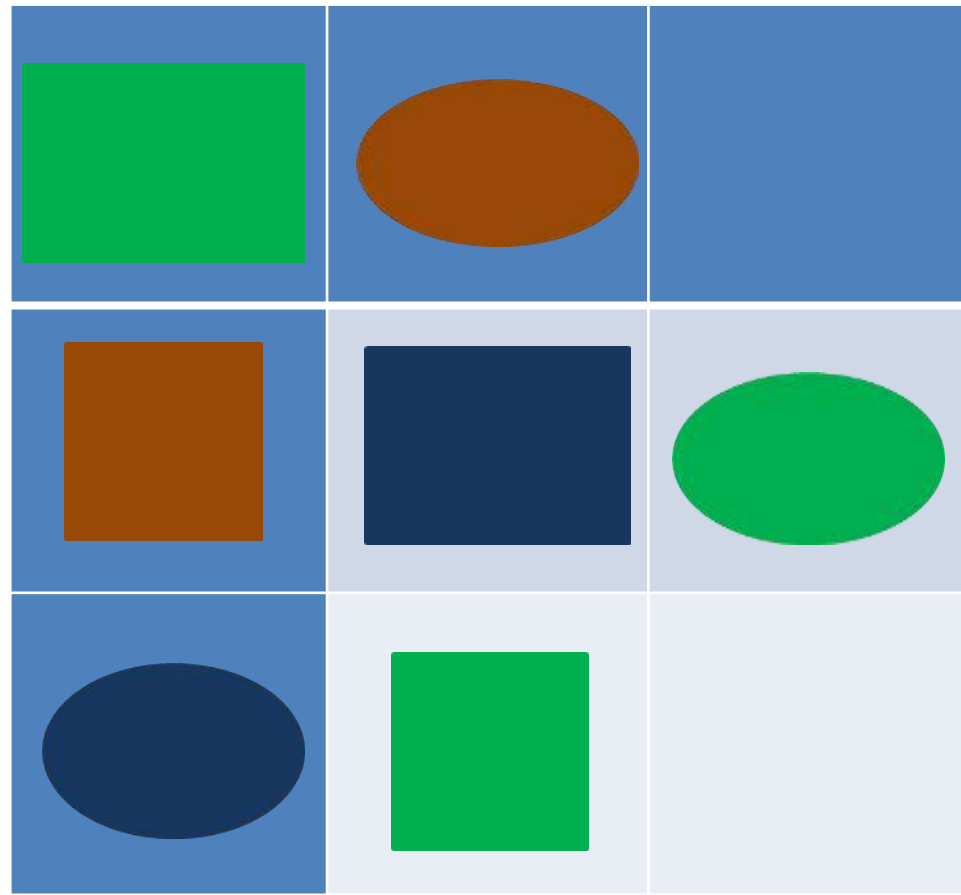
Но, чтобы пройти по этой улице, нужно ответить на вопросы. Для Миши и Маши это не составило большого труда. А вы ребята, сможете правильно ответить? Назовите геометрические фигуры и их цвет.






Все фигуры правильно назвали и Миша, и Маша, и ребята. А теперь следующее задание. Необходимо в таблицах дорисовать недостающие фигуры.





И снова все ребята справились с заданием.



Пошли Миша и Маша дальше. И попали на улицу Весёлых цифр. Но, чтобы пройти по этой улице, нужно так же ответить на вопросы. И снова Миша с Машей справились с заданием. А вы сможете назвать пропущенные цифры?

1 2 4 5 7 8 9 10

1 3 4 5 6 8 9 10

1 2 3 5 6 7 8 10



Все справились с заданием и можно смело идти на следующую улицу – улицу Игр и Развлечений. Миша и Маша очень любят игры. А вы, ребята? Игра «Подбери каждой цифре соответствующую картинку».



- 1
- 2
- 3
- 4
- 5
- 6
- 7
- 8
- 9
- 10





После успешно выполненного задания Миша и Маша отправились на улицу Задач. Но, чтобы пройти по ней, нужно правильно решить все задачи. Ребята, давайте поможем Мише и Маше в решении задач.

1. Жили-были три жука, два весёлых паука, ещё муха и оса, вот компания и вся. Посчитает быстро кто, сколько насекомых-то?






2. Ёжик собирал грибы, посчитай скорее ты: белых три, лисичек четыре. Сколько же грибов в корзине?

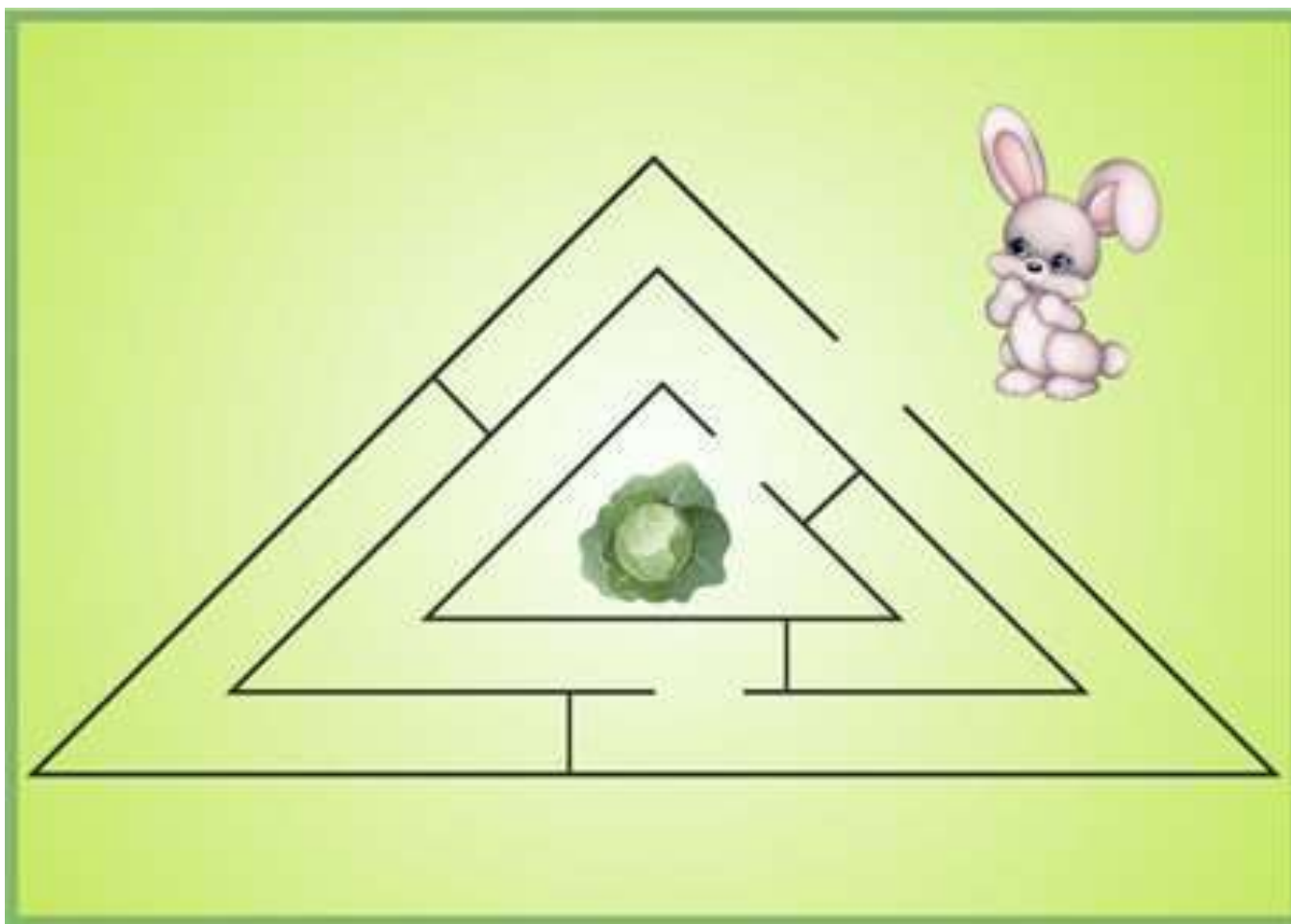


3. Пять котят спокойно сидят, два с клубком играть хотят. Кто ответит из ребят, сколько же всего котят?






И Миша, и Маша, и ребята очень хорошо решают задачи. А следующая улица – улица Величин. Но, чтобы на неё попасть, нужно сначала помочь Зайцу пройти по лабиринту и забрать капусту. Все готовы? Тогда вперёд.






И Заяц доволен, что нашёл капусту, и ребята вместе с Мишей и Машей, что попали на улицу Величин. Но на этой улице тоже есть задание, и его надо выполнить. Скажите, какая звезда самая большая? А какая звезда самая маленькая? А какая звезда больше коричневой, но меньше жёлтой? А какая звезда меньше красной, но больше жёлтой?





Все замечательно справились с заданием: и Миша, и Маша, и ребята. Они приложили звёзды одну на другую и узнали, какая из них больше, а какая меньше. Миша и Маша собрались идти на следующую улицу, но тут их разбудила воспитательница.





Миша рассказал о своём сне всей группе. Его история ребятам очень понравилась. А его воспитательница, Ольга Николаевна, быстренько записала все задания из сна, сделала книжку-малышку и назвала её «Приключения Миши и Маши в стране Математики».



На этом приключения Миши и Маши не закончились. Но это уже совсем другая сказка.